



二〇二六年中考六月冲刺

地理试卷三

考生注意：

1. 考试时间 45 分钟

2. 全卷共两大题，总分 50 分

题号	一	二	总分	核分人
得分				

得分	评卷人
----	-----

一、选择题(本大题共 24 题,每题 1 分,共 24 分。每题的四个选项中只有一项符合题意)

在地球上,经线和纬线相互交织,形成经纬网。地球表面任一地点的位置,可以用相交于该点的经线和纬线确定,用经纬度表示。读图,完成 1~2 题。

1. 图中 M 区域位于

- ① 北半球
- ② 南半球
- ③ 东半球
- ④ 西半球

A. ①④

B. ②③

C. ①③

D. ②④

2. 下列关于图中 a、b、c、d 四点间经纬线实际长度的说法,正确的是

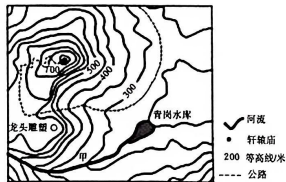
A. $ab < cd$

B. $ab > cd$

C. $ac < bd$

D. $ac > bd$

某中学学生暑假到新乡具茨山研学。下图为具茨山局部等高线地形图。据此完成 3~4 题。



3. 龙头雕塑所在的山体部位是

A. 陡崖

B. 山谷

C. 鞍部

D. 山脊

4. 轩辕庙的海拔约为

A. 780 米

B. 730 米

C. 750 米

D. 820 米

读世界局部地区人口分布图,完成 5~8 题。

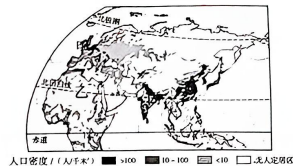
5. 图中甲乙丙丁四地区中,人口分布较为稀疏的是

A. 甲地区

B. 乙地区

C. 丙地区

D. 丁地区



6. 甲地区的居民多为

A. 黑色人种

B. 黄色人种

C. 混血人种

D. 白色人种

7. 丁地区的主要语言是

A. 汉语

B. 西班牙语

C. 法语

D. 阿拉伯语

8. 关于图中甲乙丙丁四地区的文化习俗,说法不正确的是

A. 甲地区传统民居多为双层竹楼

B. 乙地区古老的商道上,仍有骆驼商队行走

C. 丙地区传统服饰以棉麻制品或丝织品为主

D. 丁地区人们习惯用筷子用餐

中南半岛因位于中国以南而得名,与我国山水相连。读中南半岛河流与城市分布图,完成

9~10 题。

9.中南半岛的大城市主要分布在河流沿岸及河口三角洲。下列城市位于湄公河沿岸的是()

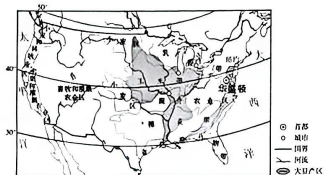
- A.河内、胡志明
B.曼谷、仰光
C.曼谷、曼谷
D.万象、金边

10.中南半岛所在地区是世界重要的热带经济作物种植地之一。

下列物产与最大产地匹配正确的是()

- A.泰国——天然橡胶
B.印度尼西亚——蕉麻
C.马来西亚——椰子
D.菲律宾——稻米

读美国本土小麦、玉米、乳畜业分布示意图,完成11~12题。



11.美国农业生产因地制宜,图中反映出美国农业的显著特点是()

- A.机械化
B.高度商品化
C.自动化
D.地区专门化

12.对美国玉米带形成的有利条件的描述,不正确的是()

- A.主要位于中央平原、地形平坦
B.农业劳动人口多,劳动力素质高
C.降水丰沛,春夏气温较高
D.工业水平高,科技发达

中国传统文化博大精深,源远流长,不同地区都有属于自己特有的传统文化。右图是我国行政区划图。读图,完成13~14题。

13.川剧是中国传统文化中的亮丽名片,它主要的流传地区是()

- A.甲
B.乙
C.丙
D.丁

14.成语是我国语言文化的瑰宝,下列成语跟川剧流传地区有关的是()

- A.乐不思蜀
B.黔驴技穷
C.秦晋之好
D.粤犬吠雪



山脉往往成为重要的地理分界线。读我国部分山脉的走向示意图,完成15~16题。



15.图中序号与其代表的山脉组合正确的是()

- A.①——太行山脉
B.②——南岭
C.③——长白山脉
D.④——昆仑山脉

16.关于②山脉的说法正确的是()

- ①1月0℃等温线大致沿该山脉分布
②400毫米年降水量线大致沿该山脉分布
③是亚热带与暖温带的分界线
④是湿润区与半湿润区的分界线
⑤是温带季风气候与亚热带季风气候的分界线

- A.①②③④
B.①②④⑤
C.①③④⑤
D.②③④⑤

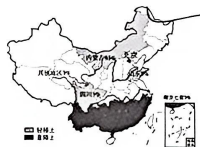
稀土被誉为“工业维生素”,我国是全球最大的稀土生产国和出口国。为合理开发利用稀土资源,我国依法实行保护性开采政策。下图示意我国稀土分布及储量占比。读图,完成17~19题。

17.我国稀土的分布特征是()

- A.轻稀土多在东北省区
B.稀土资源分布均匀
C.重稀土多在南方省区
D.山东省储量最多

18.近年来,全球稀土产量大幅增长的主要原因是()

- A.储量大幅增加
B.资源利用率高
C.人力成本降低
D.产业需求激增



“为了孩子,为了你,你放弃权利,别听信谣言,欢迎举报,英孚教育!”

电话:0454-8317543

亲爱的同学们,为下学期的合法权益,请别犹豫,欢迎举报,英孚教育!

电话:0454-8317543

19. 我国对稀土资源实行保护性开采, 旨在

- A. 贯彻资源可持续发展战略
- B. 降低稀土开采技术难度
- C. 优先满足传统工业的需求
- D. 扩大稀土出口贸易规模

黑龙江省土地面积广阔, 是我国推行“北斗+智慧农业”生产模式的试点省份。该生产模式通过使用“北斗”和搭载“智慧大脑”的农机, 可自动进行精准的整地、播种、施肥、喷药、收割等作业。下图为黑龙江省地形分布图, 完成 20~22 题。



20. 黑龙江省平原地区能开展大规模机械化耕作的主要自然原因是

- A. 降水丰富
- B. 地势平坦
- C. 水源充足
- D. 土壤肥沃

21. “北斗”和搭载“智慧大脑”的农机能够自动精准

- ①播种
- ②施肥
- ③收割
- ④防止滑坡

- A. ①②③
- B. ②③④
- C. ①②④
- D. ①③④

22. “北斗+智慧农业”生产模式可以推进农业生产的变化是

- ①农业产量提高
- ②农产品质量提升
- ③土地面积扩大
- ④农业科技发展

- A. ①②③
- B. ②③④
- C. ①②④
- D. ①③④

亲爱的同学们, 为了保护你的合法权益, 请测试题编号, 欢迎举报, 查实名!

电话: 0454-8317543

下图为两种自然灾害发生时的景观图。读图, 完成 23~24 题。



甲

23. 甲、乙两种自然灾害分别是

- A. 滑坡、洪涝
- B. 台风、地震
- C. 海啸、地震
- D. 干旱、洪涝

24. 下列关于甲、乙两种自然灾害的叙述, 正确的是

- A. 甲自然灾害主要发生在平原地区
- B. 台风可诱发甲、乙两种自然灾害
- C. 乙自然灾害发生时会造成剧烈降温
- D. 甲、乙两种自然灾害均为地质灾害

得分	评卷人

二、综合题(本大题共 3 题, 每空 1 分, 共 26 分)

25. 人类在长期适应气候环境的过程中, 逐渐形成不同类型的农业生产方式及富有地方特色的生活方式。阅读材料, 回答下列问题。(8 分)

图 1 为欧洲西部地形图, 图 2 为欧洲西部气候分布图及鹿特丹、罗马气候图。



图 1

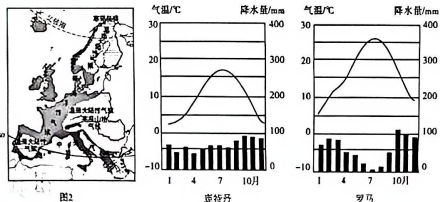


图 2

亲爱的同学们, 为了保护你的合法权益, 请测试题编号, 欢迎举报, 查实名!

电话: 0454-8317543

