



二〇二六年中考六月冲刺 地理试卷十

考生注意：

1. 考试时间 45 分钟
2. 全卷共两道大题，总分 50 分

题号	一	二	总分	核分人
得分				

得分	评卷人

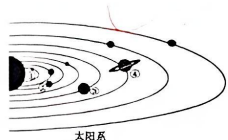
一、选择题(本大题共 24 题, 每题 1 分, 共 24 分。每题的四个选项中只有一项符合题意)

学习完“地球的宇宙环境”后, 林同学整理了关于太阳系的相关资料, 并提出了一些问题。读

地球在太阳系中的位置示意图, 完成 1—2 题。

1. 下列关于地球所处宇宙环境的说法, 正确的是 ()

- A. 地球位于宇宙的中心位置
- B. 银河系占宇宙的绝大部分
- C. 太阳是银河系的中心
- D. 地球是太阳系的八颗行星之一



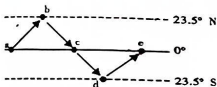
2. 图中序号代表地球的是 ()

- A. ①
- B. ②
- C. ③
- D. ④

读太阳直射点回归运动示意图, 完成 3—4 题。

3. 当太阳直射点位于 d 处时, 哈尔滨市 ()

- A. 昼长夜短
- B. 昼长达最大值
- C. 昼夜等长
- D. 昼长达到最小值



4. 2026 年元旦至五一劳动节, 太阳直射点的移动方向是 ()

- A. 向南移
- B. 先向南再向北
- C. 向北移
- D. 先向北再向南

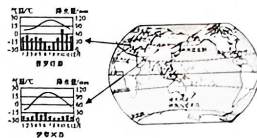
(说明: 阿拉伯数字, 为了便于答卷批改, 请别写错别字, 否则扣分, 变实为变!)

电话: 0454-8317953

薰衣草原产于法国东南部的普罗旺斯, 7—8 月花期时要充足的阳光, 耐旱怕湿。下图为世界著名薰衣草产地分布图, 完成 5—6 题。

5. 世界著名薰衣草产地主要位于 ()

- A. 北温带
- B. 热带
- C. 高纬度地区
- D. 低纬度地区



6. 普罗旺斯、伊犁河谷两地有利于薰衣草种植的气候条件共同特征是 ()

- A. 冬季温和湿润
- B. 夏季光照充足
- C. 全年干旱少雨
- D. 全年水热充足

“我们亚洲, 山是高昂的头, 我们亚洲, 河像热血流……”听到这首《亚洲雄风》, 我们的脑海中会呈现出一幅亚洲壮丽山河的画卷。据此完成 7—8 题。

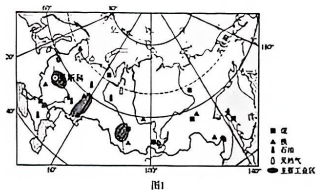
7. “我们亚洲, 山是高昂的头”, 这里的“山”如果是世界的“头”, 那么“山”是 ()

- A. 天山的博格达峰
- B. 唐古拉山的各拉丹冬峰
- C. 喀喇昆仑山的乔戈里峰
- D. 喜马拉雅山的珠穆朗玛峰

8. 亚洲河流呈辐射状注入周围大洋, 对其成因叙述正确的是 ()

- A. 亚洲降水中部多, 四周少
- B. 亚洲地势中部高, 四周低
- C. 亚洲季风气候显著
- D. 亚洲地势四周高, 中部低

图 1 为俄罗斯简图, 图 2 为日本局部简图。读图, 完成 9—10 题。



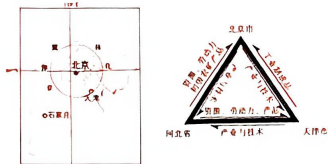
9. 日本和俄罗斯共同的地理特征是 ()

- A. 都属于海陆兼备的国家
- B. 以白种人为主
- C. 主要工业区在内陆地区
- D. 森林资源丰富

(说明: 阿拉伯数字, 为了便于答卷批改, 请别写错别字, 否则扣分, 变实为变!)

电话: 0454-8317953

区域在发展过程中,会直接或间接地与其他地区发生关联,京津冀协同发展是国家的重大战略。下图示意京津冀位置及要素关联,完成19~20题。



- 19.京津冀协同发展,北京发挥的主要作用是 ()
 A.劳动力输出 B.资源输出 C.产品加工 D.技术引领
- 20.京津冀协同发展,对天津、河北的影响有 ()
 A.城镇人口数量减少 B.城镇建设用地减少
 C.基础设施更加完善 D.医疗服务水平降低
- “高铁好啊高铁好,15分钟沪杭到……上海人周末把西湖逛。”沪杭高铁的开通,产生了“同城效应”,人们往返于不同城市,就好像生活在同一座城市一样,旅游也更加便捷了。据此,完成21~22题。
- 21.“同城效应”主要依赖的交通运输方式是 ()
 A.长江水运和海洋运输 B.航空运输和高速公路
 C.高速铁路和高速公路 D.海洋运输和高速铁路
- 22.长江三角洲地区是我国对外开放的前沿阵地,其主要优势条件包括 ()
 ①滨海临江,水、陆、空交通便利
 ②农业历史悠久,是我国重要的稻米产区
 ③经济发展水平全国领先,综合实力最强
 ④有众多侨乡,便于引进资金和技术
 A.①③ B.①④ C.②③ D.②④

我国正加快推进粤港澳大湾区建设,打造国际一流湾区和世界级城市群,读粤港澳大湾区示意图,完成23~24题。



- 23.粤港澳大湾区 ()
 A.西接云南 B.南临东海
 C.都位于北回归线以北 D.包括广东中南部和港澳
- 24.粤港澳大湾区最独特的发展优势是 ()
 A.空置土地多,租金便宜 B.工农业基础好,科技发达
 C.江海联运,海陆空交通便捷 D.港澳独特优势引领,便于吸引外资

得分	评卷人

二、综合题(本大题共3题,每空1分,共26分)

- 25.阅读非洲和西亚地区矿产资源分布图(图1)和麦地那气温曲线与降水量柱状图(图2),结合探究一、二资料,完成下列各题。(8分)

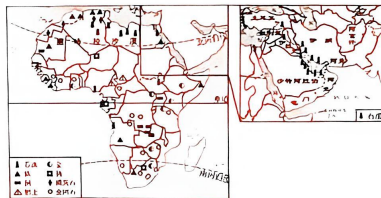


图1

图2

探究一:自然资源与区域发展的关系。西亚是世界石油宝库,撒哈拉以南非洲的全金刚石、黄金等矿产资源丰富,两个区域的矿产资源为其经济发展创造了有利条件。图1示意非洲矿产资源分布和中东部分地区石油资源分布。

- (1)据所学知识,撒哈拉以南非洲主要经济来源是出口_____与实现经济多样化,撒哈拉以南非洲还可以发展哪些产业?_____。
- (2)西亚地区对世界经济影响最大的自然资源是_____。西亚农业发展的不利条件是_____其原因_____。

探究二:地理位置对区域发展的影响 西亚自古以来就是东西方交通的枢纽,战略位置极为重要。

- (3)西亚地区的国家大多比较富裕,除矿产作为物质基础外,与外界联系便捷也是重要原因。请从西亚联系的大洲和沟通的大洋说明地理位置的重要性_____。(2分)
- (4)西亚石油外运到欧洲西部的海上通道之一的_____运河是重要海上运输航道。

