



二〇二六年中考六月冲刺

地理试卷九

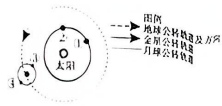
考生注意:

- 1.考试时间 45 分钟
2.全卷共两大题,总分 50 分

Table with columns: 题号, 得分, 总分, 核分人

得分 评卷人 一、选择题(本大题共 24 题,每题 1 分,共 24 分。每题的四个选项中只有一项符合题意)

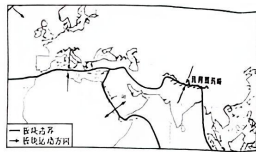
“月掩金星”指月球恰好运行到金星和地球之间时,金星被月球“掩盖”的自然现象。下图为部分天体及公转轨道示意图。据此完成 1~2 题。



- 1.图示宇宙空间范围内最高级别的天体系统为
A.地月系 B.太阳系 C.银河系 D.可观测宇宙
2.本次“月掩金星”发生时,金星和月球可能分别位于
A.①③ B.①④ C.②③ D.②④

读部分板块分布示意图,完成 3~4 题。

- 3.下列现象中,不能说明海陆变迁的是
A.台湾海峡海底分布着古代森林的遗迹
B.喜马拉雅山地区有大量古老的海洋生物化石
C.青藏高原有许多动植物分布
D.红海在不断扩大
4.对图中地理事物的描述,不正确的是
A.地中海将会逐渐缩小 B.珠穆朗玛峰还将不断升高
C.红海会不断扩大 D.板块内部地壳比较活跃



亲爱的同学们,为了维护你的合法权益,请认真审题,欢迎举报,查实有奖!

电话:0454-8317543

随着国际竞争格局的变化,正在形成由中国主导的“双环流”价值体系链(如图)。读图完成 5~6 题。

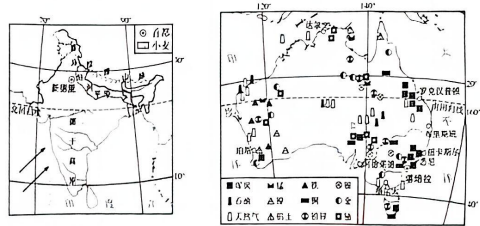
5.下列属于“南北对话”的环流过程是

- A.巴西向中国出口铁矿
B.美国向中国出口技术
C.非洲从中国进口汽车
D.中国从泰国进口大米

6.在国际竞争中,我国面临的挑战是

- A.能源供应紧张,需从国外大量进口 B.技术落后,从发展中国家进口技术
C.主要出口初级农产品,价格低廉 D.人口老龄化,需从国外输入劳动力

读印度和澳大利亚矿产和工业分布图,完成 7~8 题。



7.关于印度社会经济特征的叙述,正确的是

- A.主要粮食作物是水稻和玉米 B.图 1 中阴影部分是水稻种植区
C.班加罗尔是钢铁工业中心 D.人口多;增长速度快

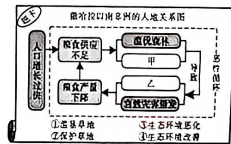
8.关于澳大利亚社会经济特征的叙述,正确的是

- A.人口集中在低纬度地区 B.矿产品出口量大,工矿业发达
C.粗放牧羊带分布在东南沿海 D.高新技术产业是其经济支柱

在“走进非洲”地理知识竞赛活动中,某同学抽取到如图题卡,请你作为场外援助,与他一起完成 9~10 题。

9.图中甲、乙两处分别填入的序号是

- A.①、④ B.①、③ C.②、③ D.②、④



亲爱的同学们,为了维护你的合法权益,请认真审题,欢迎举报,查实有奖!

电话:0454-8317543

10. 当地居民滥伐森林主要是为了

- A. 增加城市用地 B. 获取薪草资源 C. 扩大耕地面积 D. 完善基础设施

欧洲西部经济发达, 旅游业是其支柱产业之一。完成 11~12 题。

11. 下列活动能在德国体验到的是

- A. 欢度慕尼黑啤酒节 B. 游览莫斯科红场  
C. 观赏黄石国家公园的瀑布 D. 欣赏富士山的樱花

12. 吸引人们去欧洲旅游的主要原因是

- A. 地形平坦 B. 旅游资源多样 C. 消费超前 D. 教育发达

下图示意我国南极科学考察站的分布。据此完成 13~14 题。

13. 秦岭站濒临的大洋是

- A. 大西洋  
B. 印度洋  
C. 太平洋  
D. 北冰洋

14. 在秦岭站进行科学考察最适宜的时间段是

- A. 3—5 月 B. 6—8 月 C. 9—11 月 D. 12 月—次年 2 月

读四省轮廓图, 完成 15~16 题。



15. 四个城市所在省份轮廓图代码与其名称、简称搭配正确的一组是

- A. ①—广东—粤 B. ②—山东—鲁 C. ③—陕西—秦 D. ④—浙江—沪

16. 下列说法正确的是

- A. ①省和②省是我国人口稀疏区  
B. ①省主要位于暖温带  
C. ③省主要位于湿润区, 作物一年两熟到三熟  
D. ④省少数民族以壮族为主



长江江豚被誉为“水中大熊猫”、长江生态的“晴雨表”。读长江江豚保护区位置示意图, 完成 17~18 题。

17. 长江

- A. 冬春季节易发生凌汛现象  
B. 湖口以下河段, 江阔水深  
C. 水源全部来自高山冰雪融水  
D. 是我国流量最大、流域最广、汛期最长的河流



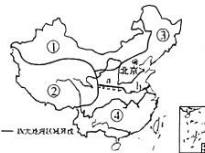
18. 长江江豚保护区主要分布在长江

- A. 河源区 B. 上中游 C. 中下游 D. 入海口

读我国四大地理区域简图, 完成 19~20 题。

19. ①②③④四大地理区域中

- A. ③区域地形以平原和高原为主  
B. ④区域农田多为旱地  
C. 确定①与③区域界线的主导因素是地势  
D. ②区域是西北地区



20. 下列不属于 a—b 一线地理意义的是

- ① 温带季风气候与亚热带季风气候的分界线  
② 400 毫米年等降水量线经过的地方  
③ 暖温带与中温带的分界线  
④ 河流有无结冰期的分界线

- A. ③④ B. ①④ C. ①② D. ②③

鱼鳞坑是在坡面上修筑类似鱼鳞状的半月形坑穴, 用于植树造林。图 1 示意黄土高原范围, 图 2 示意鱼鳞坑景观, 完成 21~22 题。

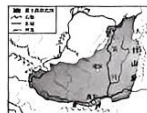


图 1

图 2

21. 黄土高原位于 ( )

- A. 秦岭—淮河一线以北  
B. 第三级阶梯  
C. 黄河流域的下游地区  
D. 太行山脉以东

22. “种一茬庄稼脱一层皮，下一场暴雨刮一层泥”，这是对曾经黄土高原的形象描述，分析造成这种现象的自然原因有 ( )

- ① 黄土土质疏松  
② 夏季多暴雨  
③ 地表裸露，缺乏植被保护  
④ 过度采矿、修路

- A. ①②③  
B. ①②④  
C. ①③④  
D. ②③④

长江三角洲区域的人们往返于不同城市之间，就像生活在同一座城市一样，这种现象被称为“同城效应”。读长江三角洲地区图，完成 23~24 题。



23. 下列有关长江三角洲地区的叙述，不正确的是 ( )

- A. 城市密集，是全国综合实力最强的区域  
B. 是举世闻名的“鱼米之乡”  
C. 矿产资源丰富，有我国最大的综合性工业基地  
D. 核心城市上海是我国最大的城市

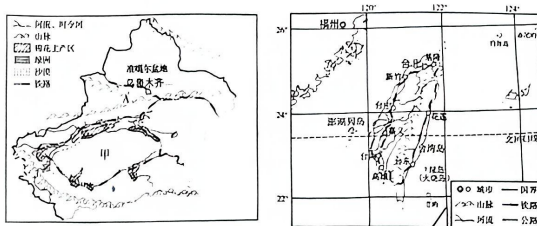
24. 长江三角洲地区城际之间“同城效应”的实现，主要是依赖 ( )

- A. 便捷的交通  
B. 邻近的地理位置  
C. 经济的快速发展  
D. 生活水平的提高

得分	评卷人

二、综合题(本大题共 3 题，每空 1 分，共 26 分)

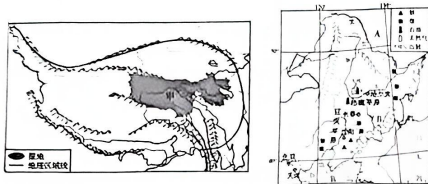
25. 近年来，我国台湾企业家纷纷赴新疆投资棉纺企业。读新疆维吾尔自治区、台湾省示意图和资料卡，回答下列问题。(8 分)



资料卡：棉花是喜温喜光的作物，对光照需求较高，高温长日照可促进棉花快速成熟。新疆是我国棉花的重要产区，2024 年新疆棉花产量占全国总产量的 92.2%。

- (1) 新疆维吾尔自治区显著的自然环境特征是\_\_\_\_\_，图中甲为\_\_\_\_\_盆地。  
 (2) 据图，新疆维吾尔自治区甲盆地和台湾省的交通路线都呈现\_\_\_\_\_状分布，影响台湾岛铁路分布的主要因素是\_\_\_\_\_。  
 (3) 台湾省物产丰富，是我国糖料作物\_\_\_\_\_的主产区，被称为“东方甜岛”；与台湾省相比，新疆维吾尔自治区的甲盆地更适宜棉花生长，请说出新疆维吾尔自治区种植棉花的有利气候条件\_\_\_\_\_。  
 (4) 近年来，我国台湾省企业家纷纷赴疆投资棉纺企业，分析两个省区在合作中的优势。(任选其一，两点，2 分)

26. 比较法是地理学习中常用的一种方法,某同学把我国青藏地区和东北地区进行了对比,并做了知识归纳表,请你阅读图文材料,将他的学习笔记补充完整。(8分)



【区域位置对比】

(1) 青藏地区位于我国西南部,主要位于我国地势第\_\_\_\_\_级阶梯,青藏地区的主体是有“\_\_\_\_\_”之称的青藏高原;东北地区位于我国东北部,主要位于我国地势第\_\_\_\_\_级阶梯,这里有我国最大的东北平原。东北地区图中的邻国 A 是\_\_\_\_\_。

【区域差异对比】

(2) 在西藏乡村地区,随处可见晾晒的牛粪,当地百姓用干牛粪做燃料烧火做饭;而东北农村一套用秸秆烧火做饭。这说明两地的农业类型差异是\_\_\_\_\_。

(3) 青藏地区的种植业主要分布在\_\_\_\_\_地区,如雅鲁藏布江谷地等;东北地区是我国重要的商品粮基地,该地区成为我国粮食生产的“稳压器”和“压舱石”的主要有利自然条件有以\_\_\_\_\_气候为主,雨热同期。

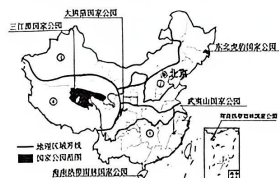
【区域可持续发展】

(4) 国家在青藏地区建立三江源自然保护区,其重要目的是保护高海拔地区的生物多样性,涵养江河水源;“冰天雪地也是金山银山”,有人提议在东北地区利用冰雪资源大力发展旅游业,促进当地经济发展,但有人却不支持,请说出你的看法并说明理由。

27. 根据材料读图,回答问题。(10分)

材料一:国家公园的首要功能是生态保护,同时为公众提供亲近自然、体验自然、了解自然以及游憩的机会。2022年12月,我国明确提出到2035年基本建成世界最大的国家公园体系。

材料二:下图为我国2021年设立的首批国家公园分布示意图。



- (1) 季风区与非季风区以\_\_\_\_\_—阴山—贺兰山—巴颜喀拉山—冈底斯山一线为界;该界线以东大致以种植业为主,该界线以西大致以\_\_\_\_\_为主。
- (2) 图中①②③④四大地理区域中,没有首批国家公园分布的是\_\_\_\_\_ (填序号),该地区自然环境的主要特征是\_\_\_\_\_。
- (3) 东北虎豹国家公园位于我国\_\_\_\_\_林区,该地区植被丰茂,人烟稀少,有利于东北虎豹栖息。
- (4) 哈尔滨的林寒假武夷山国家公园度假,乘坐高铁下车后他明显感觉到气温比他家乡\_\_\_\_\_ ,其主要影响因素是\_\_\_\_\_。
- (5) 暑假,福州的希希去三江源国家公园,火车行驶在青藏铁路上时希希看到的窗外景观不可信的是\_\_\_\_\_ ( )
- A. 雪山连绵,蓝天高远      B. 羚羊飞奔,牦牛信步  
C. 森林茂密,人迹罕至      D. 河谷地带,油菜花开
- (6) 贝贝(男生)和玲玲(女生)暑假前往海南热带雨林国家公园,看到宣传牌时产生了疑问,如下图所示。你赞同谁的说法? 请说明理由。(2分)

宣传牌  
热带雨林是国宝,是水库、粮库、钱库、更是碳库!



贝贝:是指砍伐热带雨林增加居民收入?



玲玲:是指利用热带雨林发展旅游业增加居民经济收入吧?