



二〇二六年中考六月冲刺

地理试卷八

考生注意：

1. 考试时间 45 分钟
2. 全卷共四道大题，总分 50 分

题号	一	二	总分	核分人
得分				

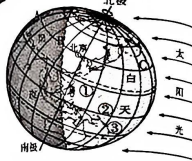
得分	评卷人

一、选择题(本大题共 20 题,每题 1 分,共 20 分。每题的四个选项中只有一项符合题意)

读地球上的昼与夜示意图,回答 1~2 题。

1. 下列知识的叙述,正确的是

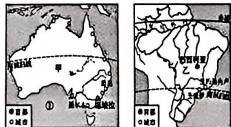
- A. A、B、C 三地 B 地即将进入黑夜
- B. 这一天北极圈以内出现极昼现象
- C. 这一天是北半球的冬至日
- D. ①②③三区域中③区域白昼最长



2. 关于地球自转和公转的叙述,正确的是

- A. 昼夜长短的变化和地球自转有关
- B. 公转产生了昼夜交替现象
- C. 自转和公转周期相同
- D. 自转和公转的方向相同

读甲乙两国示意图,完成 3~4 题



3. 关于甲国的知识的叙述,正确的是

- A. 甲国地势沿纬线呈“低—高—低”起伏
- B. 甲国最大的河流是墨累河,大分水岭分布在①印度洋沿岸
- C. 东南沿海形成了牛羊与经作物混合经营带
- D. 甲国是澳大利亚,其最大港口是堪培拉,代表动物是袋鼠、鸸鹋

4. 关于乙国的叙述,错误的是

- A. 乙国是巴西,首都是巴西利亚,位于亚马孙平原上
- B. 乙国官方语言是葡萄牙语
- C. 甲乙两国的人口城市集中分布在东南沿海地区
- D. 乙国人口构成中白种人比例最高

中国河流众多,长江、黄河为两大母亲河。长江是我国第一长河,滋养南方沃土;黄河孕育华夏文明,塑造北方平原,众多河流共同构成丰富的水系网络。据此,请完成 5~7 题。

5. 下列关于我国河流流域开发与治理的说法,正确的是

- A. 长江三峡工程的首要任务是航运
- B. 治理黄河的核心是治沙
- C. 珠江流域水能开发集中在下游河段
- D. 黑龙江流域的主要环境问题是水土流失

6. 关于我国内外流河的说法,错误的是

- A. 外流河的流域面积约占全国总面积的 2/3
- B. 内流河的水文特征受气温影响显著
- C. 雅鲁藏布江是我国注入印度洋的最大河流
- D. 淮河是我国内流区与外流区的分界线

亲爱的同学们,为了维护你的合法权益,请别试卷真伪,欢迎举报,查实有奖!

亲爱的同学们,为了维护你的合法权益,请别试卷真伪,欢迎举报,查实有奖!

7. 长江中下游地区夏季易发生洪涝灾害, 主要原因不包括

- A. 流域内降水集中, 多暴雨
B. 中游河道弯曲, 排水不畅
C. 下游围湖造田, 调蓄能力下降
D. 上游水土流失严重, 下游泥沙淤积

中国自然资源总量丰富, 种类繁多, 涵盖水资源、土地资源、海洋资源等多个领域。然而, 由于人口基数庞大, 人均资源占有量相对匮乏, 且资源分布存在不均现象。因此, 必须坚持合理开发利用与节约保护并重, 坚定不移地走可持续发展之路。请完成 8~10 题。

8. 近年来, 我国很多城市推广“海绵城市”建设, 通过铺设透水砖、修建蓄水池等措施, 缓解城市内涝。这一举措主要利用的地理原理是

- A. 调节水资源的时间分布
B. 调节水资源的空间分布
C. 减少水资源的污染
D. 增加水资源的总量

9. 我国沿海地区的渔民通常会在夏季休渔, 禁止大规模捕捞。实行“伏季休渔”制度的主要目的是

- A. 减少海洋污染, 保护海洋环境
B. 避免台风影响, 保障渔民安全
C. 让海洋生物繁殖生长, 保护生物资源
D. 降低捕捞成本, 提高渔民收入

10. 春节期间, 北方的小红到海南旅游, 发现当地人身穿短袖, 而家乡却白雪皑皑。这一现象反映的地理问题与下列哪项资源分布相关

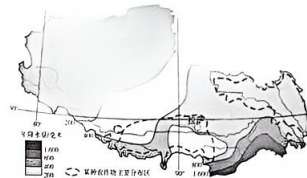
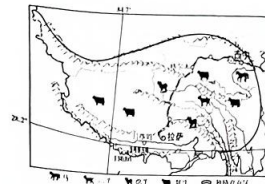
- A. 水资源的空间分布差异
B. 土地资源的类型差异
C. 气候资源的纬度分布差异
D. 海洋资源的海域分布差异

青藏高原的居民在严峻的自然环境中孕育了独特的雪域文明。位于“世界屋脊”的西藏, 拥有得天独厚的资源禀赋和丰富的特色产品。然而, 受限于自然条件的制约, 这些特色产品难以销往全国市场。为此, 援藏人员积极利用“直播带货”模式, 助力西藏特色产品走出高原。

亲爱的同学们, 为了维护你的合法权益, 辨别试卷真伪, 欢迎举报。表实有奖!

电话: 0454-8317543

“直播带货”正逐渐成为西藏农牧民脱贫致富的重要途径之一。据此, 完成 11~15 题。



11. 西藏特色产品有

- A. 牦牛肉
B. 回锅肉
C. 螺蛳粉
D. 竹筒饭

12. 藏袍是青藏高原地区的传统服饰, 其特点为宽大、厚重且半肩设计, 充分体现了当地居民的生活环境与文化特色。

- A. 冬季寒冷、夏季炎热的气候特征
B. 高山连绵起伏的地貌特征
C. 昼夜温差显著的气候特征
D. 游牧生活方式的独特特征

13. 关于青藏地区的叙述, 错误的是

- A. 青藏高原是世界最高的大高原, 有“世界屋脊”之称
B. 牦牛是青藏地区特有畜种, 有“高原之舟”之称
C. 青藏地区的种植业主要集中在河西走廊和雅鲁藏布江谷地
D. 为保护三江源地区生态环境, 国家建立了自然保护区

14. 下列描述符合青藏地区特征的有

- A. 远看是山, 近看是川
B. 河流众多, 气候干旱
C. 地形复杂, 降水丰富
D. 地势低洼, 湖泊稀少

15. 读图分析西藏自治区的降水空间分布规律是

- A. 自东南向西北递减
B. 自西北向东南递减
C. 自北向南递减
D. 自西向东递减

亲爱的同学们, 为了维护你的合法权益, 辨别试卷真伪, 欢迎举报。表实有奖!

电话: 0454-8317543

(1) 西亚被称为三洲五海之地,其中 A 是_____海。

(2) 西亚地区是世界上石油储量最大、输出量最多的地区之一,西亚地区的石油集中分布在 C _____ 沿岸其附近。

(3) 西亚石油的输出要经过被称为世界油阀的 B _____ 海峡。

(4) 西亚石油输出路线中,运量最大的路线要经过东南亚的 _____ 海峡,输送给东亚地区。

(5) 读东南亚地图,中南半岛地形特征是_____。

(6) 东南亚包括 _____ 马来群岛两部分,马来群岛主要气候类型是 _____ 气候。

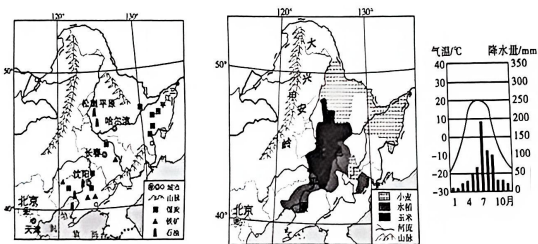
(7) 东南亚地处热带,盛产热带经济作物,请列举本地区产量居世界首位的热带经济作物和所在的国家:_____。

(8) 马来群岛大多数国家多火山和地震,请简述其原因 _____。(2分)

23. 阅读图文,完成下列各题。(10分)

材料一:东北地区农业类型丰富多样,平原区域夏季高温且多雨,沃野千里,适宜机械化耕作,粮食产量颇高,是我国重要的商品粮生产基地。此外,山区拥有丰富的森林资源,当地居民因地制宜,开展了林下种植、养殖等多种农业经营活动。东北大米品质上乘,烹饪出的米饭口感香甜软糯,深受人们喜爱。即使在盛产大米的南方地区,东北大米亦颇受欢迎,销售情况良好。

材料二:东北三省地形和矿产资源分布、农作物分布及气温曲线和降水柱状图。



【工业的摇篮】

(1) 东北三省是新中国成立后第一个重工业基地,是新中国工业的摇篮,东北三省是指 _____ 吉林省、辽宁省。

【山环水绕】

(2) 山环:东北三省,主要的山脉有北部的 _____ 东部的长白山脉,西部的山脉甲 _____。

(3) 水绕:北部黑龙江,东部的乌苏里江,在中部有黑龙江的最大支流 _____,南部主要河流辽河。

【沃野千里】

(4) 东北三省主要的地形区以平原和山地为主,中部有宽阔的 _____ 平原,由辽河平原、松嫩平原和三江平原构成。

(5) 东北平原冬季漫长 _____,夏季温暖短促。降水多集中在夏季,冬季以 _____ 为主。

(6) 图中甲地适宜发展的农业生产部门是 _____,乙地地处平原,适宜发展的农业生产部是 _____。

(7) 请分析东北大米品质优良的原因是什么?
