



二〇二六年中考六月冲刺

# 地理试卷七

考生注意：

1. 考试时间 45 分钟

2. 全卷共四道大题，总分 50 分

题号	一	二	总分	核分人
得分				

得分	评卷人

一、选择题(本大题共 20 题，每题 1 分，共 20 分。每题的四个选项中只有一项符合题意)

自古以来，宇宙一直是人类探求和研究的对象。随着科技的发展，尤其是在过去的几十年里，人类对太空的深入探索已取得了显著进展，我国太空探索更是用 30 年跨越了发达国家几个世纪的发展历程。完成 1~2 题。

1. 人类探索太空的意义是

- ①推动科技进步    ②抢占宇宙空间资源    ③探索生命起源    ④更好地保护地球家园

- A. ①②③    B. ①②④    C. ②③①    D. ①③④

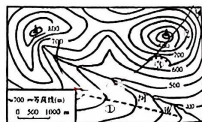
2. 下列属于我国太空探索领域成就的是

- A. “天宫”空间站全面建成    B. 哈勃望远镜成功发射  
C. “旅行者号”探测器成功发射    D. “东方 1 号”载人航天飞船成功发射

暑假期间，几位“驴友”相约到我国东南某山区旅游，下图为该山区地形示意图。读图，完成 3~4 题。

3. 以下判断不正确的是

- A. ①是山脊    B. ③是陡崖  
C. ①处坡度比②处坡度陡    D. ④处河流流向大致为自西向东



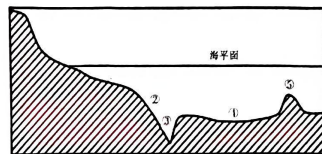
亲爱的同学们，为了维护你的合法权益，请认真审题，认真答题，认真检查。

电话：0454-8317543

4. 如果早晨观看日出，最合适的地点是

- A. ①    B. ②    C. ③    D. ④

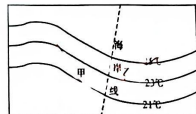
5. 下图所示的海底地形中，描述正确的是



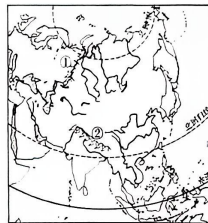
- A. ①是大陆坡，石油资源丰富    B. ②是大陆架，坡度较小  
C. ③是海沟    D. ④是海岭

6. 读图，图中甲代表陆地，乙代表海洋，则对图示等温线的叙述，正确的是

- A. 该图反映的是 1 月份的气温分布  
B. 该图反映的是 7 月份的气温分布  
C. 该地点位于是北半球  
D. 图中同纬度的陆地气温高于海洋



读亚洲简图，回答 7~8 题。



7. 关于亚洲的叙述正确的是

- A. 面积最大、跨经度最广、东西距离最长的大洲  
B. 北回归线穿过阿拉伯半岛、印度半岛、中南半岛  
C. ①是大高加索山脉，是亚欧两洲的分界线  
D. ②是世界上海拔最高、长度最长的山脉

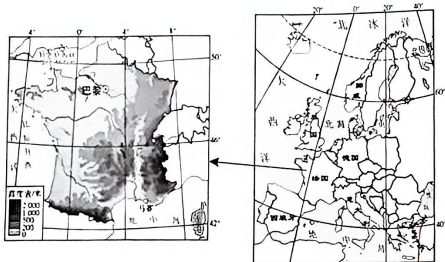
亲爱的同学们，为了维护你的合法权益，请认真审题，认真答题，认真检查。

电话：0454-8317543

8.关于亚洲的说法,正确的是

- A.国家数量最多的大洲
- B.亚洲西部主要分布着黄色人种
- C.人口数量仅次于非洲,居世界第二位
- D.亚洲东部与南部是世界人口稠密地区

读下图,完成9~10题。



9.法国

- A.南部隔直布罗陀海峡与亚欧大陆相望
- B.地处低纬度,气候湿热
- C.西临大西洋,东南临地中海
- D.地形以平原为主

10.夏季,法国东南部地中海沿岸海滩吸引大量英国游客的主要原因是

- A.两地陆地相连,距离较近
- B.光照充足,可进行日光浴
- C.两地语言相同,文化相近
- D.避暑胜地,旅游活动多样

长江是我国第一大河,被誉为“黄金水道”,水能宝库。据此,完成11~12题。

11.《长江之歌》中唱到“你用甘甜的乳汁,哺育各族儿女;你用健美的臂膀,挽起高山大海”。这里的“高山”“大海”最有可能是

- A.秦岭、南海
- B.唐古拉山、东海
- C.巴颜喀拉山、渤海
- D.昆仑山、黄海

12.下列关于长江流域防治洪灾的措施,不合理的是

- A.修建水利枢纽
- B.加固河堤
- C.围湖造田
- D.退耕还林

( )

通过南水北调引入的长江水已成为北京市的主力水源,每年引10多亿立方米进京,与现有城市供水系统联网,将清水送到千家万户。水资源短缺一直是北京的基本市情水情,我们每个人都有节水义务,请珍惜用好每一滴水。据此完成13~14题。

13.我国实施南水北调工程,主要原因是我国水资源

- A.年际差异较大
- B.空间分布不均
- C.季节分布不均
- D.城乡分布不均

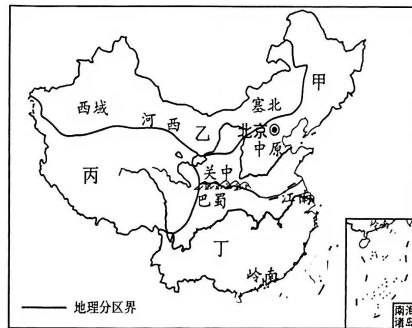
14.下列做法符合节水行动的是

- ①增加地下水的开采量
- ②推广使用节水器具
- ③推广喷灌、滴灌技术
- ④生活污水灌溉农田

- A.①④
- B.②④
- C.②③
- D.③④

中国古代文人喜欢从文化相似性着手,辅之以山川,划分出许多充满历史韵味的地理区域,如“关中”“岭南”“巴蜀”“西域”等,并结合诗句表现各地的异域景观。读中国简图,完成15~16题。

15.图中甲、乙、丙、丁四大区域景观对应关系正确的是



- A.甲——风吹草低见牛羊
- B.乙——小桥流水人家
- C.丙——烤肉青稞闻玉殿
- D.丁——大漠孤烟直

16.下列关于图中文化地域的自然环境,叙述正确的是

- A.关中地区黄土广布
- B.岭南地区属于温带大陆性气候
- C.巴蜀地区1月平均气温在0℃以下
- D.西域地区地形以高原和平原为主

北京是我国著名的古都和历史文化名城,拥有3000多年的建城史和800多年的建都史。据此,完成17~18题。

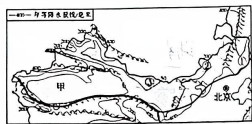
17.下列有关北京的说法,正确的是

- A.地势西北高,东南低  
B.地处亚热带季风气候区  
C.全国政治、经济、文化中心  
D.水库、河流较多,水资源丰富

18.下列有关北京城市建设和发展的说法,正确的是

- A.保持完整的古城原有格局和风貌  
B.彻底改变古城原有格局和风貌  
C.传统建筑和现代建筑交相辉映  
D.拆除四合院和胡同,建设高楼大厦

读我国西北地区荒漠化与年降水量分布图,完成19~20题。



19.导致西北地区自东向西降水量差异的主要因素是

- A.纬度位置  
B.海陆位置  
C.地形地势  
D.地球运动

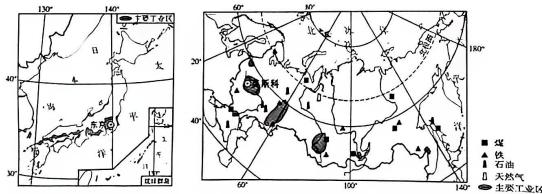
20.图中甲地沿河树木多为

- A.耐涝的垂柳  
B.耐旱的胡杨  
C.耐寒的白桦  
D.耐高温的银杏

得分 评卷人

二、综合题(本大题共3题,每空1分,共30分)

21.【区域认知·比较国家】俄罗斯与日本是隔海相望的两个国家,人口均超过一亿。根据所学知识,读俄罗斯及日本示意图,完成下列各题。(10分)



亲爱的同学们,为了维护你的合法权益,请别试卷易份,欢迎举报,查实有奖!

电话:0454-8317541

【了解概况】

(1)从人口数量与国土面积来看,俄罗斯可概括为地广人稀,日本则可概括为\_\_\_\_\_。日本面积最大的岛屿是\_\_\_\_\_。

(2)日本和俄罗斯共同濒临的大洋是\_\_\_\_\_。

(3)日本的人口出生率较低,但是死亡率较高,所以人口增长率\_\_\_\_\_出现严重的\_\_\_\_\_现象。

【比较工业】

(4)由图可见,俄罗斯工业区的分布特点是\_\_\_\_\_,日本工业区的分布特点是\_\_\_\_\_。

(5)据图可知日本钢铁工业发展的优势是\_\_\_\_\_,俄罗斯钢铁工业发展的优势是\_\_\_\_\_。

【探究发展】

(6)俄罗斯的经济建设实行东部大开发的原因是\_\_\_\_\_。

22.读黄河流域(图1)、黄土高原(图2)和环渤海地区(图3),回答下列各题。(10分)

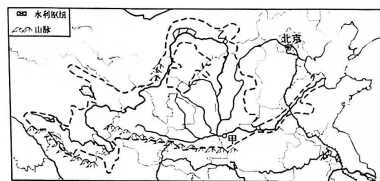


图1

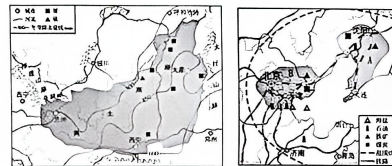


图2

图3

亲爱的同学们,为了维护你的合法权益,请别试卷易份,欢迎举报,查实有奖!

电话:0454-8317541

(1) 黄河流域地域辽阔, 气候差异较大。图 1 中甲、乙两地相比较, 甲地的年平均气温\_\_\_\_\_

乙地, 原因是甲地的\_\_\_\_\_较低。

(2) 读图 2, 宁夏平原年降水量只有 200 毫米左右, 这里发展水产养殖和水稻种植的水源主要来自\_\_\_\_\_。当地生产的水稻品质优良, 其有利的气候条件主要是\_\_\_\_\_。

(2 分)

(3) 贺兰山是我国西北重要的生态安全屏障, 以西地表多戈壁和荒漠; 以东则优质草场广布, 有我国的四大牧区之一:\_\_\_\_\_。

(4) 图 2 中丙山脉是\_\_\_\_\_。是黄土高原的南界, 也是我国一条重要的地理分界线, 请写出它南侧的气候类型:\_\_\_\_\_。

(5) 黄土高原最突出的生态环境问题是水土流失, 为有效减缓暴雨和流水对地表的侵蚀, 当地通常采取的主要生物措施是\_\_\_\_\_。

(6) 黄河入海口位于环渤海经济圈内, 读图 3, 这里分布着我国 AB 两大工业基地, 它们共同的资源优势是:\_\_\_\_\_资源丰富。

23. 读图文材料, 完成下列各题。(10 分)

材料一: 青藏高原的隆起, 形成了独特的自然环境, 对当地产生了深远影响。青藏高原腹地的三江源地区, 雪山连绵, 冰川高悬; 湖泊星罗, 沼泽密布; 细草如毡, 蹄类竞骄……这里是野生动物的天堂, 是江河之源。

材料二: 青藏铁路不仅是青藏地区重要的交通要道, 还是一条美丽的雪域景观大道。

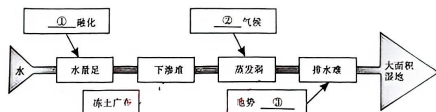


【碧波荡漾——青海湖】

(1) 青海湖四周雪山连绵, 冰川广布, 由此推测湖水水量最大的季节是\_\_\_\_\_; 湖畔绿茵如毯, 碧波倒映着蓝天白云, 由此推测湖水含沙量\_\_\_\_\_。

【中华水塔——三江源】

(2) 三江源地区位于我国\_\_\_\_\_。三江源地区河流密布, 湖泊、沼泽众多, 是世界上海拔最高、面积最大的高原湿地。请填写下图关键词, 认识高原湿地的成因。



① \_\_\_\_\_; ② \_\_\_\_\_。

(3) 如果三江源地区冰川不断消退, 湖泊沼泽不断萎缩, 草场不断退化, 将会给黄河带来的影响可能有\_\_\_\_\_。

【高寒河谷——特色农业】

(4) 雅鲁藏布江谷地主要的粮食作物有\_\_\_\_\_和小麦等; 分析该谷地发展农业的有利条件

【“雪域精灵”——藏羚羊】

(5) 藏羚羊被称为“雪域精灵”, 充分适应了青藏高原的自然环境。据图说出藏羚羊是如何适应当地独特环境的。